


SOCIALS: (pàgines 74, 75, 80 i 81). LA SOCIETAT ESPANYOLA I ELS SÍMBOLS DE LA COMUNITAT.



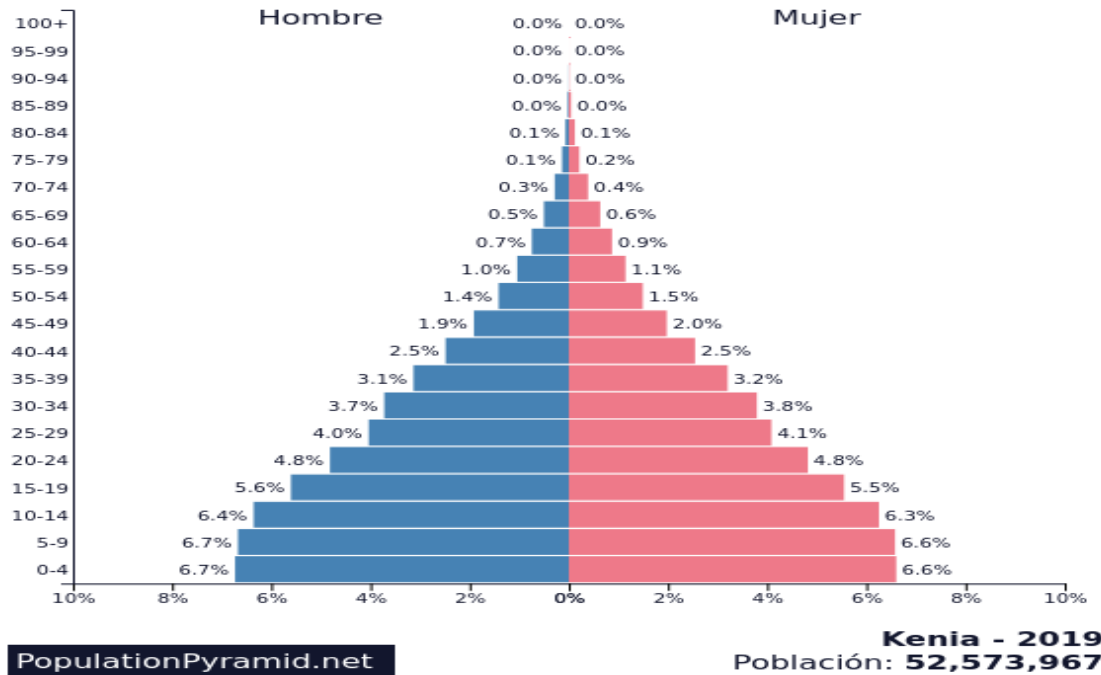
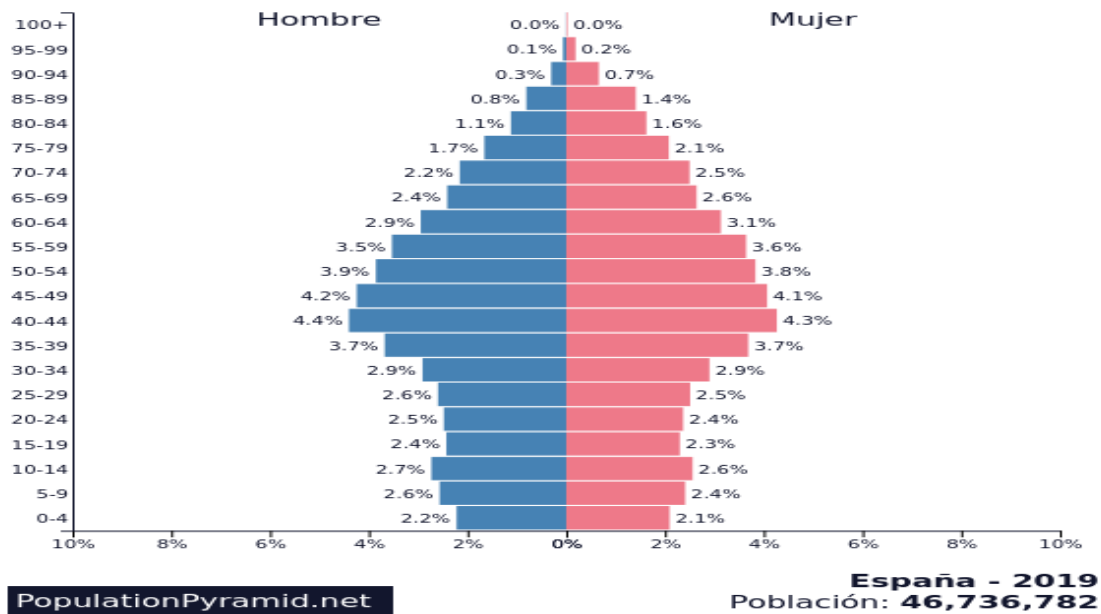
1-Aquesta bandera pertany a la comunitat autònoma de les illes Balears, comunitat en la que vius actualment, és el seu símbol conjuntament amb el seu escut. Cerca informació de les 4 illes que la formen i digues breument les característiques de les principals institucions polítiques balears.

SOCIALS: (pàgines 74, 75, 80 i 81). LA SOCIETAT ESPANYOLA I ELS SÍMBOLS DE LA COMUNITAT.



2-Aquesta fotografia representa la lluita de la dona a Espanya als darrers 50 anys, anomena els principals canvis que han aconseguit les dones a la societat espanyola gràcies a reivindicacions com la de la fotografia.

SOCIALS: (pàgines 74, 75, 80 i 81). LA SOCIETAT ESPANYOLA I ELS SÍMBOLS DE LA COMUNITAT.



3-Aquí pots comparar dues piràmides de població d'un país desenvolupat primer, com és Espanya i d'un país sub-desenvolupat de l'Àfrica com és Kenia.

Quines característiques demogràfiques fan que Espanya tingui una població envellida? On es concentra la majoria de població resident a Espanya?

SOCIALS: (pàgines 74, 75, 80 i 81). LA SOCIETAT ESPANYOLA I ELS SÍMBOLS DE LA COMUNITAT.

4- Quines conseqüències econòmiques pot provocar la crisi sanitària del Covid-19 a la societat Espanyola en els pròxims mesos? Explica-ho amb les teves paraules.