





<b>Representación</b>					
<b>Se escribe</b>	$\frac{3}{4}$	$\frac{1}{6}$	$\frac{2}{3}$		
<b>Se lee</b>	tres cuartos			un medio	cinco octavos

12 Representa mediante círculos las siguientes fracciones.

$$\frac{4}{8} \quad \frac{1}{3} \quad \frac{2}{4} \quad \frac{1}{2} \quad \frac{2}{6} \quad \frac{3}{9}$$

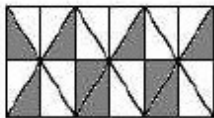
13 Expresa la parte coloreada en forma de fracción.

figura	denominador	numerador	fracción
			
			
			

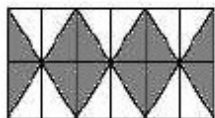
14 Representa como quieras las siguientes fracciones.

$$\frac{4}{5} \quad \frac{3}{6} \quad \frac{5}{8} \quad \frac{2}{10}$$

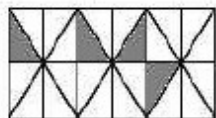
15 Corrige las fracciones si consideras que no representan la parte coloreada de su figura.



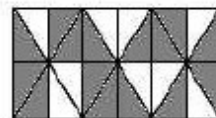
$$\frac{24}{9}$$



$$\frac{12}{24}$$



$$\frac{20}{24}$$



$$\frac{17}{24}$$