






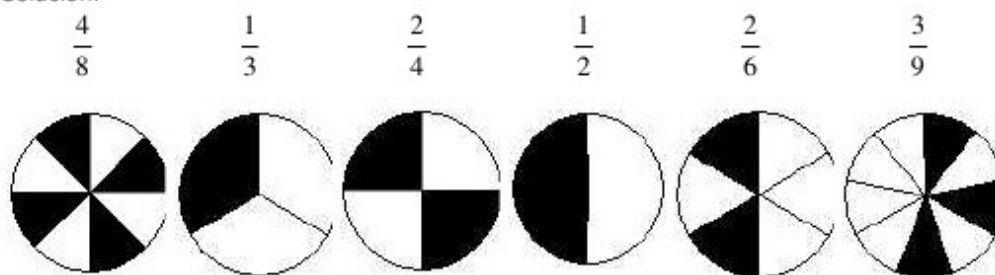
Solución:

Representación					
Se escribe	$\frac{3}{4}$	$\frac{1}{6}$	$\frac{2}{3}$	$\frac{1}{2}$	$\frac{5}{8}$
Se lee	tres cuartos	un sexto	dos tercios	un medio	cinco octavos



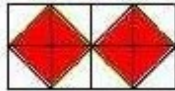
12 Representa mediante círculos las siguiente fracciones.

$$\frac{4}{8} \quad \frac{1}{3} \quad \frac{2}{4} \quad \frac{1}{2} \quad \frac{2}{6} \quad \frac{3}{9}$$

Solución:



13 Expresa la parte coloreada en forma de fracción.

figura	denominador	numerador	fracción
			
			
			

Solución:

figura	denominador	numerador	fracción
	3	1	$\frac{1}{3}$
	10	6	$\frac{6}{10}$
	16	8	$\frac{8}{16}$